

NP-431019-G

Seat No. _____

B. Com. (Sem.-I) Examination

January - 2024

BCM23VA101 : Indian Knowledge System
(New Course)

Time : 1 Hours]

[Total Marks : 25

- સૂચના : (1) જમણી તરફની સંખ્યા કુલ ગુણ દર્શાવે છે.
(2) નક્કી કરેલ વિકલ્પ સ્પષ્ટ જણાવો.
(3) દરેક પ્રશ્ન ફરજિયાત છે.

- 1 વિધાન સમજાવો : “પરંપરાગત જ્ઞાન ખૂબ મહત્વનું છે પરંતુ આજના આધુનિક 10
સમયમાં પરંપરાગત જ્ઞાન મેળવવું પડકારનજક છે.”

અથવા

- 1 ટૂંકનોંધ લખો : (ગમે તે બે) 10
(1) વૈદિક જ્ઞાન પદ્ધતિ અને હિન્દુ ફિલોસોફિકલ જ્ઞાન પદ્ધતિ
(2) બૌદ્ધ જ્ઞાન પદ્ધતિ અને જૈન જ્ઞાન પદ્ધતિ
(3) આયુર્વેદિક જ્ઞાન પદ્ધતિ અને પ્રાચીન ભારતની સાહિત્યિક જ્ઞાન પદ્ધતિ
(4) પ્રાચીન ભારતીય ગાણિતિક જ્ઞાન પદ્ધતિ અને ખગોળશાસ્ત્રીય જ્ઞાન પદ્ધતિ

- 2 પ્રાચીન ભારતમાં યોગના સ્થાપક કોને ગણવામાં આવે છે? તે ઋષિનું યોગદાન 10
વિગતવાર સમજાવો.


અથવા

- 2 નીચેના વિશે ટૂંકનોંધ લખો : (ગમે તે બે) 10
(1) મનુસ્મૃતિમાંથી આર્થિક વિચારો અને વ્યાવસાયિક શિક્ષણ.
(2) મહાભારતમાંથી આર્થિક શિક્ષણ.
(3) કૌટિલ્યની યાજ્ઞક્ય નીતિમાંથી આર્થિક બોધ.
(4) “શુકનીતિ”માંથી આર્થિક વિચારો.

3 योग्य विकल्प पसंद करो :

5

- (1) 'महाभारत' महाकाव्यना रचयिता कोश हता?
 (अ) महर्षि कणाद (ब) विष्णुगुप्त
 (क) महर्षि वेदव्यास (द) स्वामी योगानंद
- (2) संस्कृत साहित्यमां 'कादम्बरी'ना रचयिता कोश हता?
 (अ) कवि कालीदास (ब) आर्यभट्ट
 (क) नागार्जुन (द) भाषाभट्ट
- (3) संस्कृत व्याकरणमां सौथी वधु नोधपात्र प्रदान करनार.
 (अ) याज्ञक्य (ब) पाणिनी
 (क) कपिलमुनि (द) ऋषि पराशर
- (4) भारतमां परंपरागत दवा पद्धति आयुर्वेदना स्थापक
 (अ) चरक (ब) सुश्रुत
 (क) महर्षि पतंजलि (द) धनवन्तरी
- (5) याज्ञक्यनुं सौथी महत्त्वनुं कार्य कयुं हतुं?
 (अ) नीतिशास्त्र (ब) याज्ञक्य नीति
 (क) नाट्यशास्त्र (द) व्याकरणशास्त्र



Seat No. _____

NO-431018-G

B. Com. (Sem. I) Examination

January - 2024

BCM23SE103 : Mind Management

(Skill Enhancement Course-3)

(New Course)

Time : 1 hours]

[Total Marks : 25

1 સમજાવો કે કેવી રીતે માઈન્ડ મેનેજમેન્ટ કાર્યક્ષમતા, સર્જનાત્મકતા અને કાર્યસ્થળ પર શ્રેષ્ઠતા વધારવામાં મદદરૂપ થઈ શકે છે? 10

અથવા

(A) મહર્ષિ પતંજલિ દ્વારા વર્ણવેલ મનના વિવિધ મોડ્યુલેશન સંક્ષિપ્તમાં સમજાવો. 5

(B) ભાવનાત્મક તકલીફ/ઉથલપાથલ (emotional distress/turmoil)ના કારણો સમજાવો. 5

2 માઈન્ડફુલનેસનો અર્થ આપી તેના વિવિધ ઘટકો તેમજ ફાયદા જણાવો. 10

અથવા

2 ગાર્ડનરની બહુવિધ બુદ્ધિ (મલ્ટીપલ ઈન્ટેલિજન્સ)નો સિદ્ધાંત સમજાવો. 10

3 બહુવિધ પસંદગીના પ્રશ્નો. (કોઈપણ પાંચ) 5

(1) ભાવનાત્મક બુદ્ધિ _____ દ્વારા વર્ગીકૃત કરી શકાય છે.

(A) સમસ્યા હલ કરવામાં નિપુણતા

(B) વધુ સારા આંતરવ્યક્તિત્વ સંબંધ

(C) ઉચ્ચ અમૂર્ત વિચારવાની ક્ષમતા

(D) ગુડ સેન્સ ઓફ હ્યુમર

- (2) તણાવનું સંચાલન કરવાની મુખ્ય ચાવી છે -
- (A) તાણના ચિહ્નોને ઓળખવા અને સમજવું
 (B) તણાવના સ્રોતોની ઓળખ
 (C) આપણે શું નિયંત્રિત કરી શકીએ અને શું ન કરી શકીએ તે ઓળખવું
 (D) ઉપરોક્ત તમામ
- (3) _____ કૌશલ્યો તણાવની અસરોનું સંચાલન કરવા માટે ખૂબ જ મહત્વપૂર્ણ છે.
- (A) આંતરવૈયક્તિક કુશળતા (B) સમય વ્યવસ્થાપન
 (C) સંવાદ (કોમ્યુનિકેશન) (D) સમસ્યા ઉકેલવી
- (4) નીચેનામાંથી કયા તણાવના મૂળ સ્રોત છે?
- (A) પર્યાવરણ (B) સામાજિક તણાવ
 (C) શારીરિક (D) ઉપરોક્ત તમામ
- (5) પોતાની જાતને સમજવાની અને પોતાના વિચારો, લાગણીઓ, ભાવનાઓ, હેતુઓને જાણવાની ક્ષમતા કહેવાય છે.
- (A) મ્યુઝિકલ ઈન્ટેલિજન્સ (B) અવકાશી બુદ્ધિ
 (C) આંતરવ્યક્તિત્વ બુદ્ધિ (D) સામાજિક બુદ્ધિ
- (6) નીચેનામાંથી કયું સમય વ્યવસ્થાપન કૌશલ્યમાં સમાવિષ્ટ નથી?
- (A) સારી રાતની ઊંઘ લેવી (B) વિલંબિતા
 (C) ખાલી સમય હોવો (D) લચીક (ફ્લેક્સિબલ) બનવું

Seat No.....

B.Com. (New) - Sem. I Examination
December-2023
BCM23MD104 – Finance For Everyone

[Max. Marks: 50

Time: 2 Hours]

સૂચના : દરેક પ્રશ્નના ગુણ સરખા છે.

પ્રશ્ન : 1 નાણાંકીય આયોજનનો અર્થ આપી તેનું મહત્વ સમજાવો.
અથવા

પ્રશ્ન : 1 (અ) નાણાંકીય આયોજનની પ્રક્રિયા વર્ણવો.

(બ) પુરાંતવાળું બજેટ અને ખાધવાળું બજેટ સમજાવો.

પ્રશ્ન : 2 બેન્ક દ્વારા પૂરી પાડવામાં આવતી વિવિધ પ્રોડક્ટ્સ અને સેવાઓ અંગે સમજૂતી આપો.
અથવા

પ્રશ્ન : 2 બેન્ક દ્વારા પૂરી પાડવામાં આવતી વિવિધ પ્રકારની લોનો ટૂંકમાં સમજાવો.

પ્રશ્ન : 3 બેન્ક દ્વારા પૂરી પાડવામાં આવતી નાણાં ઝડપથી ટ્રાન્સફર કરવાની પદ્ધતિઓ સમજાવો.
અથવા

પ્રશ્ન : 3 (અ) ઇલેક્ટ્રિક ક્લીયરિંગ સીસ્ટમ (ECS) અંગે સમજૂતી આપો.

(બ) બેકિંગને લગતી ફરિયાદો અને લોકપાલ સમજાવો.

પ્રશ્ન : 4 ભારતીય પોસ્ટ ઓફીસ દ્વારા પૂરી પાડવામાં આવતી લાંબાગાળાની બચત યોજના અંગે સમજૂતી આપો.
અથવા

પ્રશ્ન : 4 (અ) જીવન વીમા અંગે કામ કરતી વીમા કંપનીઓ દ્વારા અપાતી મુખ્ય વીમા પોલીસીના પ્રકારો ટૂંકમાં સમજાવો.

(બ) માનવ જીવનમાં હેલ્થ વીમા (Mediclaim Insurance)નું મહત્વ સમજાવો.

પ્રશ્ન : 5 યોગ્ય વિકલ્પની પસંદગી કરો :

(1) નીચેમાંથી નાણાંકીય આયોજન સાથે સંબંધ ધરાવે છે -

(અ) માનવ સંસાધન સંચાલન

(બ) માર્કેટિંગ વ્યૂહરચના

(ક) નાણાંકીય બાબતો અને બજેટ

(ડ) વ્યક્તિગત સંચાલન

(2) નાણાંકીય બજેટ -

(અ) એકમમાં રોકડ પ્રવાહની જાળવી રાખવા માટે જરૂરી છે.

(બ) ધંધાની સર્વગ્રાહી નાણાંકીય સંઘરતા જાળવવા જરૂરી છે.

(ક) એકમનું ધ્યેય નક્કી કરી અને તેણે સિધ્ધ કરવા માટે

(ડ) ઉપર આપેલ બધાજ

(3) KYC એટલે -

(અ) Know Your Customer

(બ) Know Your Career

(ક) Know Your Company

(ડ) Know Your Cash Balance

(4) ખાનગી ક્ષેત્રની બેંકોમાં કઈ બેંકોનો સમાવેશ થાય છે?

(અ) બરોડા ગ્રામીણ બેંક

(બ) યુનિયન બેંક ઓફ ઈન્ડિયા

(ક) એચ.ડી.એફ.સી બેંક

(ડ) ઉપરનામાંથી એકપણ નહિ

(5) RTGS એટલે-

(અ) Real Time Gross Settlement

(બ) Real Transfer Gross Settlement

(ક) Real Trade Gross Settlement

(ડ) Real Time Gain Settlement

(6) NEFT માં વ્યવહારદીઠ મહત્તમ મર્યાદા કેટલી છે?

(અ) રૂ. 1,00,000

(બ) રૂ. 50,000

(ક) રૂ. 1,50,000

(ડ) કોઈ મર્યાદા નથી

(7) નીચેનામાંથી કઈ બચત યોજના પોસ્ટ ઓફીસ દ્વારા પૂરી પાડવામાં આવે છે?

(અ) રાષ્ટ્રીય બચત પત્ર

(બ) કિસાન વિકાસ પત્ર

(ક) સુકન્યા સમૃદ્ધિ યોજના

(ડ) આપેલ બધાજ

(8) e-money ઓર્ડર -

(અ) ઝડપી

(બ) અનુકૂળ

(ક) સરળતાથી ઉપયોગી

(ડ) આપેલ બધાજ

(9) વીમો એટલે -

(અ) બે પક્ષકારો વચ્ચે મૌખિક કરાર

(બ) બે પક્ષકારો વચ્ચે મૌખિક લેવડ-દેવડ

(ક) બે પક્ષકારો વચ્ચે લેખિત કરાર

(ડ) બે પક્ષકારો વચ્ચે સોદા અંગેનો કરાર


(10) મેડીકલેમ વીમો એટલે -

(અ) આગનો વીમો

(બ) દરિયાઈ વીમો

(ક) જીવન વીમો

(ડ) સ્વાસ્થ્યનો વીમો



27/12/2023

સચારે
Seat No. _____

NK-431002-G

B. Com. (Sem. I) Examination

December - 2023

BCM23MJ1A2 : Business Accounting - I

(New Course)

Time : 2 Hours]

[Total Marks : 50

- 1 A, B અને C 5:3:2ના પ્રમાણમાં નફો-નુકસાન વહેંચતા સોલિસિટરની પેઢીના ભાગીદારો છે. તેમની પેઢીનું તા. 31-3-2023ના રોજનું કાયું સરવૈયું નીચે મુજબ છે. 10

ઉધાર બાકી	₹	જમા બાકી	₹
પુસ્તકો	60,000	ખર્ચ પેટે એડવાન્સ	2,25,000
ઉપાડ	90,000	ફીની આવક	4,80,000
ટેલિફોન ખર્ચા	75,000	મૂડી	3,00,000
ભાડું	15,000	ફી અંગે અનામત (1-4-22)	1,95,000
વહીવટી ખર્ચા	45,000	શિખાઉ ઉમેદવારનું પ્રીમિયમ	2,10,000
રોકડ બેન્ક	2,70,000		
અન્ય ખર્ચા	1,05,000		
સાધનો	1,20,000		
વાન	1,80,000		
વાનના ખર્ચા	1,35,000		
વેતન	1,50,000		
ફી અંગનો દેવાદારો	1,65,000		
	14,10,000		14,10,000

વધારાની માહિતી :

- (1) શિખાઉ ઉમેદવારને તા. 1-4-2018થી પાંચ વર્ષ માટે રાખેલ છે.
 - (2) અસીલો વતી કરેલ ખર્ચ ₹ 15,000 વહીવટી ખર્ચ ખાતે લખાયેલ છે.
 - (3) અધૂરું કામ ₹ 90,000.
 - (4) ઉપાડનું પ્રમાણ A, B, C વચ્ચે 6:4:2 છે.
 - (5) મૂડી નફા-નુકસાનના પ્રમાણમાં લાવેલ છે.
 - (6) વાન પર - 25%, સાધનો પર 10% અને પુસ્તકો પર 5% ઘસારા ગણો.
- ઉપરની માહિતી પરથી ફર્મની પુસ્તકોમાં વાર્ષિક હિસાબો તૈયાર કરો.

અથવા

- 1 મિ. દિલીપસિંહ ચાર્ટડ એકાઉન્ટન્ટ છે. તેમનું 31 માર્ચ, 2022ના રોજનું કાર્યું 10 સરવૈયું નીચે મુજબ છે:

ઉધાર બાકી	₹	જમા બાકી	₹
પુસ્તકો	25,000	અસીલોનાં ખાતાં	12,500
દેવાદારો	10,000	લોન	25,000
સ્ટેશનરી ખર્ચ	5,000	અસીલ પરચૂરણ ખર્ચ	
બેન્ક રોકડ	25,000	ખાતાવહી	5,000
અસીલોનાં ખાતાં	40,000	મૂડી	2,50,000
પગાર	30,000	મળેલ ફી	2,00,000
ઓફિસ વીજળી	5,000		
કમ્પ્યુટર ખરીદા (તા. 1-10-21)	25,000		
ફર્નિચર	25,000		
ટપાલ ખર્ચ	1,500		
મેગેઝિન	3,500		
વહીવટી ખર્ચ	20,000		
વાન	67,500		
મકાન	2,00,000		
જીવન વીમા પ્રીમિયમ	10,000		
	4,92,500		4,92,500

વધારાની માહિતી :

- (1) અસીલો વતી કરેલ ખર્ચ ₹ 1,500 વહીવટી ખર્ચમાં ગણાય છે.
 - (2) એક અસીલ પાસેથી ₹ 3,500 પરચૂરણ ખર્ચ પેટે મળેલા તેનો સમાવેશ અસીલ એડવાન્સ ખાતામાં થયો છે.
 - (3) કમ્પ્યુટર પર 5%, મકાન પર 5%, ફર્નિચર પર 5% ઘસારો ગણવાનો છે.
 - (4) બાકી મેળવવાની ફી ₹ 25,000.
- રોકડના ધોરણે વાર્ષિક હિસાબો તૈયાર કરો.

- 2 શ્રી મહેશ તા. 1લી એપ્રિલના રોજ શ્રી કેયુરભાઈ પાસેથી ભાડે-ખરીદ 10
પદ્ધતિથી એક યંત્રની ખરીદ કરી. તેણે ખરીદી વખતે ₹ 15,000 ચૂકવ્યા. તેણે
બાકીની રકમ દર વર્ષને અંતે તા. 31મી માર્ચના રોજ રોકડ કિંમત પર 10%
પ્રમાણે વ્યાજ સહિતના નીચે દર્શાવેલા રકમના ચાર હપતામાં ચૂકવી:
₹ 32,000, ₹ 24,500, ₹ 17,500 અને ₹ 11,000. ઘટતી જતી બાકીની પદ્ધતિ
પ્રમાણે તેણે યંત્ર પર 10% લેખે ઘસારો કાપ્યો.
શ્રી મહેશના ચોપડામાં યંત્રનું ખાતું, મી. કેયુરનું ખાતું અને ત્રીજા વર્ષના અંતે તેના
પાકા સરવૈયામાં યંત્ર કેવી રીતે દર્શાવવામાં આવશે તે બતાવો.

અથવા

- 2 શ્રી સાગરે તા. 1-1-2020ના રોજ વંદનાબેન પાસેથી એક યંત્ર ભાડે ખરીદ 10
પદ્ધતિથી ખરીદ્યું. આ અંગેની શરતો નીચે મુજબ હતી:
- (1) રોકડ કિંમત ₹ 3,20,000
 - (2) તા. 1-1-2020ના રોજ ચૂકવેલ રકમ..... ₹ 1,20,000
 - (3) તા. 31-12-2020ના રોજ ચૂકવેલ રકમ..... ₹ 1,00,000
 - (4) તા. 31-12-2021ના રોજ ચૂકવેલ રકમ..... ₹ 72,000
 - (5) તા. 31-12-2022ના રોજ ચૂકવેલ રકમ..... ₹ 66,000
 - (6) વ્યાજનો દર વાર્ષિક 10% લેખે.
 - (7) દર વર્ષે મૂળકિંમત ઉપર 10% લેખે ઘસારો કાપવાનો છે.

બંને પક્ષકારો શ્રી સાગર અને વંદનાબેનના ચોપડામાં જરૂરી ખાતાઓ તૈયાર કરો.

- 3 નીચેની માહિતી પરથી શ્રી અજયે કાજોલને તા. 1-8-2023ના રોજ મોકલવાનું 10 ચાલું ખાતું તૈયાર કરો:

તારીખ	વિગત	₹
માર્ચ 1	કાજોલ પાસે લેણા	26,000
માર્ચ 17	કાજોલને કરેલ વેચાણ	2,000
એપ્રિલ 1	કાજોલ પાસેથી મળેલ રોકડ	25,000
એપ્રિલ 19	કાજોલને કરેલ વેચાણ	36,000
એપ્રિલ 30	કાજોલને કરેલ વેચાણ	25,000
મે 1	કાજોલ પાસેથી મળેલ રોકડ	20,000
મે 1	કાજોલ પાસેથી મળેલ ચેક	15,000
જૂન 22	કાજોલ પાસેથી કરેલ ખરીદી	1,000
જુલાઈ 12	કાજોલને કરેલ વેચાણ	700
ઓગષ્ટ 14	કાજોલ પાસેથી મળેલ રોકડ	2,500

ફોરવર્ડ (સર) પદ્ધતિએ વ્યાજ 10% લેખે ગણાય છે.

અથવા

- 3 બકુલભાઈએ નીચે મુજબ ચાર હૂંડીઓ શશીકાંત પર લખેલી છે: 10

- (1) તા. 16-5-2023ના રોજ લખેલી 2 માસની હૂંડી ₹ 400.
- (2) તા. 6-6-2023ના રોજ લખેલી 1 માસની હૂંડી ₹ 250.
- (3) તા. 7-7-2023ના રોજ લખેલી 2 માસની હૂંડી ₹ 500.
- (4) તા. 14-7-2023ના રોજ લખેલી 3 માસની હૂંડી ₹ 350.

જો શશીકાંતે ₹ 1,500 પૂરા તા. 25મી સપ્ટેમ્બરે રોજ ચૂકવ્યા હોય તો તેમણે વ્યાજ સાથે કેટલી રકમ ચૂકવવી પડી હશે? વ્યાજનો દર વાર્ષિક 10% ગણવામાં આવે છે.

- 4 સુરતની એક કાપડની કંપનીએ કારખાનાનો એક ભાગ ₹ 8,00,000ના ખર્ચે 10 બાંધકામ કરવાનું નક્કી કર્યું. તોડી પાડવામાં આવેલ કારખાનાના ભાગની મૂળ કિંમત ₹ 4,00,000 હતી. જૂના માલસામાનના સાધનના ₹ 40,000 ઉપજ્યા છે અને ₹ 20,000ની કિંમતનો જૂનો માલસામાન નવા બાંધકામમાં ઉપયોગમાં લીધેલ છે. જેનો ઉપરોક્ત જણાવેલ ₹ 8,00,000માં સમાવેશ થતો નથી. હાલમાં મજૂરી, માલસામાન અને અન્ય ખર્ચની કિંમત કારખાનાના જૂના ભાવની કિંમત કરતા અનુક્રમે 5%, 10% અને 15% વધી છે. પહેલા અને અત્યારે માલસામાન, મજૂરી અને અન્ય ખર્ચ વચ્ચેનું પ્રમાણ 10:6:4 છે.
- કાપડની માંગ વધવાને કારણે ₹ 2,40,000ના ખર્ચે કારખાનાની મૂળ લંબાઈ કરતા 25% વધારો કરવાનું નક્કી કરેલ છે.
- ઉપરની માહિતી પરથી મૂડી ખર્ચ, મહેસૂલ ખર્ચની ગણતરી કરી, જરૂરી આમનોંધ અને પુનઃસ્થાપના ખાતું તૈયાર કરો.

અથવા

- 4 નીચે આપેલ માહિતી પરથી જહાજ 'કેટરીના'નું ખાતું તૈયાર કરો: 10
- (1) સફરનો સમય : તા. 11-7-2023 થી તા. 22-9-2023 (બંને દિવસો સહિત).
- (2) આવક : જતાં - 1000 ટન કોલસો, ટન દીઠ ₹ 90 લેખે તથા મુસાફર ભાડું ₹ 10,000.
આવતાં - 1000 ટન અનાજ, ટન દીઠ ₹ 120 લેખે તથા ટપાલભાડું ₹ 11,000.
- (3) ખર્ચ:
- | | |
|-------------------------------|----------|
| બંદર ખર્ચ | ₹ 13,060 |
| પગાર (વાર્ષિક)..... | ₹ 70,000 |
| નૂરનો વીમો નૂરના | 2% લેખે |
| મરામત ખર્ચ | ₹ 5,000 |
| બળતણ ખર્ચ : શરૂનો સ્ટોક | ₹ 1,000 |
| ખરીદી | ₹ 7,000 |
| આખરનો સ્ટોક..... | ₹ 2,080 |
| બીજા વહાણને બળતણ આપ્યો..... | ₹ 2,100 |

(4) અન્ય વિગતો :

(i) પ્રાઈમેજ નૂરના 10% લેખે.

(ii) મરામત અનામત ₹ 3,000.

(iii) એડ્રેસ કમિશન :

જતાં નૂર પર 4%

આવતા નૂર પર 5%

(iv) જહાજ 10 વર્ષ પહેલા ખરીદવામાં આવ્યું હતું. તેની મૂળ કિંમત દર વર્ષે 5% લેખે સરખા હપતા પદ્ધતિથી ઘસારો કાપવામાં આવેલો. તા. 1-1-2023ના રોજ તેની ચોપડે કિંમત ₹ 5,00,000 હતી. ચાલુ વર્ષે એ જ દરે ઘસારો કાપવાનો છે.

(v) જહાજના વીમાનું પ્રીમિયમ વહાણની મુળ કિંમતના 4% લેખે છે.

(vi) મેનેજરને તેના કમિશન બાદ કર્યા પછીના ચોખ્ખા નફાના 10% કમિશન આપવાનું છે.

5 નીચેના પ્રશ્નોમાં યોગ્ય વિકલ્પ પસંદ કરો :

10

(1) ભાડે ખરીદ પદ્ધતિ અનુસાર વ્યાજની રકમ _____ ખાતે ઉધારવામાં આવે છે.

(A) મિલકત

(B) ખરીદનાર

(C) નફા-નુકસાન

(D) વેચનાર

(2) ભાડે ખરીદ પદ્ધતિમાં ઘસારો કઈ કિંમત પર ગણાય છે?

(A) ભાડે ખરીદ કિંમત

(B) કરાર કિંમત

(C) રોકડ કિંમત

(D) ઉપરમાંથી એકેય નહિ

(3) નીચે દર્શાવેલા ખાતા પૈકી કયું ખાતું ડોક્ટરના હિસાબો તૈયાર કરવા માટે આવશ્યક છે?

(A) ઉપજ-ખર્ચ ખાતું

(B) નફા-નુકસાન ખાતું

(C) આવક-જવક ખાતું

(D) વેપાર ખાતું

(4) સોલીસીટર, વકીલ, ડોક્ટર વગેરે સામાન્ય રીતે પોતાના હિસાબો કઈ પદ્ધતિ અનુસાર રાખે છે?


(A) રોકડ પદ્ધતિ

(B) એકનોંધી પદ્ધતિ

(C) દ્વિલેખા પદ્ધતિ

(D) બેન્ક પદ્ધતિ

- (5) સરેરાશ પાક્યા તારીખ શોધવા માટે _____ તારીખના આધારે દિવસોની ગણતરી કરવામાં આવે છે.
- (A) હુંડી લખ્યા તારીખ (B) શુન્ય તારીખ
(C) પાક્યા તારીખ (D) ઉપરની બધીજ
- (6) ચાલુ ખાતું એ _____ પ્રકારનું ખાતું છે.
- (A) વ્યક્તિ ખાતું (B) ઉપજ ખર્ચ ખાતું
(C) મિલકત ખાતું (D) ઉપરમાંથી એક પણ નહિ
- (7) જુના કાટમાળની ઉપજ પુનઃસ્થાપનાના હિસાબોમાં કયા ખાતે જમા લેવાય છે?
- (A) મૂડી ખાતે (B) મહેસૂલી ખાતે
(C) રોકડ ખાતે (D) પુનઃસ્થાપના ખાતે
- (8) મિલકતની ક્ષમતામાં કાયમી ધોરણે વધારો કરતો ખર્ચ એટલે _____.
- (A) પ્રસારિત મહેસૂલી ખર્ચ
(B) મહેસૂલી ખર્ચ
(C) પુનઃસ્થાપના ખર્ચ
(D) મૂડી ખર્ચ
- (9) સફર ખાતું એ દરેક સફરનું _____ છે.
- (A) વેપાર ખાતું (B) નફા-નુકસાન ખાતું
(C) વેપાર અને નફા નુકસાન ખાતું (D) ઉપરમાંથી એક પણ નહિ
- (10) જહાજી કંપનીઓ માટે પ્રાઈમેજ શું ગણાય છે?
- (A) નુકસાન (B) આવક
(C) ખર્ચ (D) નફો



Seat No. _____

NM-021003-G

B. Com. (Sem. I) Examination

December - 2023

BCOMC103 : Human Resource Management

Time : 3 hours]


[Total Marks : 70

- 1 (અ) માનવ સંસાધન સંચાલન એટલે શું? તેનું મહત્ત્વ જણાવો. 7
અથવા
(અ) માનવ સંસાધન આયોજનના ફાયદા જણાવો. 7
(બ) માનવ સંસાધન સંચાલકના ગુણો જણાવો. 7
અથવા
(બ) માનવ સંસાધન આયોજનની પ્રક્રિયા જણાવો. 7
- 2 (અ) કર્મચારી પસંદગીની પ્રક્રિયા જણાવો. 7
અથવા
(અ) તાલીમનો અર્થ જણાવીને તેના ફાયદાઓની ચર્ચા કરો. 7
(બ) કામદારોને તાલીમના પ્રકારો જણાવો. 7
અથવા
(બ) ભરતીની પદ્ધતિઓની ચર્ચા કરો. 7
- 3 (અ) કર્મચારી જુસ્સો એટલે શું? તેને અસર કરતાં પરિબળો જણાવો. 7
અથવા
(અ) બદલી એટલે શું? તેના કારણોની ચર્ચા કરો. 7
(બ) કામગીરી મૂલ્યાંકન એટલે શું? તેની જરૂરિયાત જણાવો. 7
અથવા
(બ) અપકર્ષના કારણો અને અસરો જણાવો. 7
- 4 (અ) ઔદ્યોગિક સંબંધનો અર્થ અને મહત્ત્વ જણાવો. 7
અથવા
(અ) મજૂરસંઘનો અર્થ આપીને તેના કાર્યોની ચર્ચા કરો. 7
(બ) ઔદ્યોગિક સંબંધના પક્ષકારો જણાવો. 7
અથવા
(બ) સામૂહિક સોદાગીરીના ફાયદા અને મર્યાદા જણાવો. 7

5 નીચેના પ્રશ્નોના ટૂંકમાં જવાબ આપો. (ગમે તે સાત)

14

- (1) વૈજ્ઞાનિક ભરતી એટલે શું?
- (2) કર્મચારીના આંતરિક પ્રાપ્તિસ્થાનો જણાવો.
- (3) તાલીમની કોઈપણ બે મર્યાદાઓ જણાવો.
- (4) અધિકારી વિકાસ એટલે શું?
- (5) અપકર્ષ એટલે શું?
- (6) મજૂરસંઘના પ્રકારો જણાવો.
- (7) કામગીરી મૂલ્યાંકનના બે ફાયદા જણાવો.
- (8) નીચા જુસ્સાના કારણો લખો.
- (9) સામૂહિક સોદાગીરીનો અર્થ આપો.
- (10) મજૂર ફેરબદલી એટલે શું?



NL-431007-G

Seat No. _____

B. Com. (Sem. I) Examination

December - 2023

**BCM23MN102 : Business Economics - I
(New Course)**

Time : 2 Hours]

[Total Marks : 50

સૂચના : દરેક પ્રશ્નના ગુણ સરખા છે.

1 પ્રો. રોબિન્સે આપેલી અર્થશાસ્ત્રની વ્યાખ્યાની ટીકાત્મક ચર્ચા કરો. 10

અથવા

1 એકમલક્ષી અને સમગ્રલક્ષી અર્થશાસ્ત્રનો ખ્યાલ સમજાવો.

2 ઘટતા સીમાંત તુષ્ટિગુણનો નિયમ સમજાવો. 10

અથવા

2 તટસ્થ રેખાના લક્ષણો સમજાવો.

3 માંગની મૂલ્ય સાપેક્ષતાનો અર્થ આપી, તેને નક્કી કરતાં પરિબળો જણાવો. 10

અથવા

3 માંગનો અર્થ સમજાવો. માંગના નિયમની સમજૂતી આકૃતિની મદદથી આપો.

4 ઘટતા મળતરનો નિયમ સવિસ્તર સમજાવો. 10

અથવા

4 સરેરાશ ખર્ચ અને સીમાંત ખર્ચના ખ્યાલો સમજાવી, બન્ને વચ્ચેના આંતર સંબંધો તપાસો.

5 સાચો વિકલ્પ પસંદ કરો : 10

(1) માર્શલના મત પ્રમાણે અર્થશાસ્ત્ર શેનો અભ્યાસ કરે છે?

(A) ભૌતિક સંપત્તી (B) પસંદગીના પ્રશ્નો

(C) સામાન્ય જીવન વ્યવહારના (D) એકેય નહીં

- (2) નીચેનામાંથી કયું સૂક્ષ્મ અર્થશાસ્ત્ર હેઠળ આવે છે?
- (A) રાષ્ટ્રીય આવક (B) સામાન્ય ભાવ સ્તર
(C) પરિભળ ભાવો (D) રાષ્ટ્રીય બચત અને રોકાણ
- (3) અર્થશાસ્ત્ર કેવું વિજ્ઞાન છે?
- (A) આધુનિક વિજ્ઞાન (B) નાણાકીય વિજ્ઞાન
(C) પ્રકૃતિક વિજ્ઞાન (D) સામાજિક વિજ્ઞાન
- (4) માંગ રેખાનો ઢાળ _____ હોય છે.
- (A) ઋણ (B) ધન
(C) અનંત (D) એકેય નહીં
- (5) સંપૂર્ણ મૂલ્ય સાપેક્ષ માંગ _____.
- (A) ધન ઢાળવાળી હોય છે. (B) શૂન્ય ઢાળવાળી હોય છે.
(C) ઋણ ઢાળવાળી હોય છે. (D) એકેય નહીં
- (6) માંગની મૂલ્ય સાપેક્ષતા હંમેશા કેવી હોય છે?
- (A) વધારે (B) ઓછી
(C) ધન (D) ઋણ
- (7) કુલ સ્થિર ખર્ચ + કુલ અસ્થિર ખર્ચ = _____ ખર્ચ થાય.
- (A) કુલ ખર્ચ (B) સરેરાશ ખર્ચ
(C) સીમાંત ખર્ચ (D) સરેરાશ સ્થિર ખર્ચ
- (8) ટૂંકાગાળામાં કયો ખર્ચ બદલાતો નથી?
- (A) સ્થિર ખર્ચ (B) સીમાંત ખર્ચ
(C) સરેરાશ ખર્ચ (D) અસ્થિર ખર્ચ
- (9) ઉત્પાદન શક્યતા રેખા એટલે _____.
- (A) રૂપાંતર રેખા (B) ખર્ચ રેખા
(C) પુરવઠા રેખા (D) વેચાણ રેખા
- (10) ગ્રાહકના અધિક સંતોષનો ખ્યાલ ક્યારે રજૂ થયો?
- (A) 1844 (B) 1840
(C) 1944 (D) 1890



26/12/2023

Seat No.

NJ-431001-G

B. Com. (Sem. I) Examination

December - 2023

BCM23MJ1A1 : Financial Accounting - I

(New Course)

[Total Marks : 50

Time : 2 Hours]

સૂચના : દરેક પ્રશ્નના ગુણ સરખા છે.

1 હિસાબી માહિતીના ઉપયોગકર્તાઓ અને તેમની જરૂરિયાત અંગે સમજૂતી આપો.
અથવા

1 ચાલુ પેઢીનો હિસાબી ખ્યાલ સમજાવો.

2 જય અને અજય એક પેઢીના 3:1ના પ્રમાણમાં ભાગીદારો છે. તા. 31-3-2023ના રોજ તેઓએ અજય અને વિજય સમાન પ્રકારનો ધંધો કરતી પેઢી સાથે સંયોજન કરવાનું નક્કી કર્યું. અજય અને વિજય 2:1ના પ્રમાણમાં ભાગીદારો છે. નવી પેઢીનું નામ બાલકુવેર એન્ડ કંપની રહેશે, જેમાં નફા-નુકસાનનું પ્રમાણ અનુક્રમે 3:2:1 રહેશે. આ તારીખ બંને પેઢીનાં સરવૈયાં નીચે મુજબ છે:

મૂડી-દેવાં	જય અજય	અજય વિજય	મિલકતો	જય અજય	અજય વિજય
મૂડી ખાતાં : જય	1,20,000	—	મકાન	25,000	—
અજય	80,000	1,00,000	મશીનરી	75,000	80,000
વિજય	—	50,000	ફર્નિચર	10,000	3,000
અનામતો	25,000	75,000	સ્ટોક	60,000	70,000
લેણદારો	60,000	58,000	દેવાદારો	80,000	1,00,000
જય અજયની પેઢીની			રોકડ હાથ પર	15,000	45,000
લોન	—	50,000	બેન્ક સિલક	10,000	5,000
બેન્ક લોન	40,000	—	અજય વિજયની		
			પેઢીની લોન	50,000	—
			એડવાન્સ	—	30,000
	3,25,000	3,33,000		3,25,000	3,33,000

નવી પેઢી બાલકુવેર એન્ડ કંપનીએ બંને પેઢીનો ધંધો નીચેની શરતોએ લઈ લીધો:

- (1) જય અને અજયની પેઢીના મકાનની કિંમત ₹ 50,000 ગણવી.
- (2) જય અને અજયની મશીનરીની કિંમત ₹ 1,00,000 અને અજય અને વિજયની મશીનરીની કિંમત ₹ 1,12,500 ગણવામાં આવી.
- (3) જય, અજય અને અજય, વિજયની પેઢીની પાઘડી અનુક્રમે ₹ 25,000 અને ₹ 20,500 ગણવામાં આવી. નવી પેઢી બાલકુવેર એન્ડ કંપનીમાં પાઘડી ખાતું દર્શાવવાનું નથી.
- (4) નવી પેઢીમાં ભાગીદારોની મૂડી નવા નફા-નુકસાનના પ્રમાણમાં રાખવાની છે. આ માટે ભાગીદારો જરૂરી રોકડ લાવશે અથવા લઈ જશે. નવી પેઢીના ચોપડે શરૂઆતનું પાકું સરવૈયું તૈયાર કરો.

અથવા

- 2 શક્તિ-ભક્તિ તથા શુભ-લાભની પેઢીઓનું એક નવી પેઢી તરીકે તા. 1-1-2023ના રોજ સંયોજન થયું. તા. 31-12-2022ના રોજનું શક્તિ-ભક્તિની પેઢીનું પાકું સરવૈયું નીચે મુજબ છે:

દેવાં	₹	મિલકતો	₹
મૂડી ખાતાં :		મકાન	60,000
શક્તિ	60,000	રોકાણો	21,000
ભક્તિ	45,000	સ્ટોક	24,000
લેણદારો	30,000	દેવાદારો	45,000
નફા-નુકસાન ખાતું	15,000		
	1,50,000		1,50,000

સંયોજનની શરતો નીચે પ્રમાણે હતી:

- (1) પાઘડીની કિંમત ₹ 22,500 ગણવી.
- (2) મકાન ₹ 73,500ની કિંમતે અને સ્ટોક ₹ 22,500ની કિંમતે લઈ લેવા.
- (3) રોકાણો નવી પેઢીએ લેવા નહિ.
- (4) દેવાદારો પર ઘાલખાધ અનામત 20% રાખવું.

તમારે શક્તિ-ભક્તિના ચોપડે તૈયાર કરવાનાં છે:

- (1) નફા-નુકસાન હવાલા ખાતું
- (2) ભાગીદારોના મૂડી ખાતાં અને
- (3) નવી પેઢીનું ખાતું

3 ભરથાણાના ભરતે, માંગલેજના મનોજને તા. 1-4-2022ના રોજ "20" iPhone, દરેક ₹ 60,000ની ભરતિયા કિંમતે આડતથી વેચવા માટે મોકલ્યા. પડતર કિંમત પર 25% નફો ચઢાવીને ભરતિયા કિંમત નક્કી કરવામાં આવે છે.

ભરતે માલ મોકલતાં ભાડાના ₹ 12,000, નુરના ₹ 10,000 અને વીમાના ₹ 16,000 ચૂકવ્યા હતા.

ભરતે, મનોજ ઉપર ₹ 3,00,000ની ચાર માસની મુદતની હૂંડી લખી જે મનોજે તરત સ્વીકારીને પરત મોકલી આપી. ભરતે બે માસ પછી આ હૂંડી વાર્ષિક 12%ના દરે બેંકમાં વટાવી.

મનોજ કુલ વેચાણ પર 5% લેખે સામાન્ય આડત અને ઉધાર વેચાણ પર 2% લેખે આસામી આડત મેળવવા હકદાર છે.

રસ્તામાં અકસ્માત થવાથી 04 (ચાર) iPhoneને ભારે નુકશાન થયું, જેનો વીમા કંપનીએ ₹ 1,45,000નો દાવો સ્વીકાર્યો.

તા. 31-3-2023ના રોજ મનોજે વેચાણ આંકડો અને તેની પાસેની લેણી રકમનો બેંકડ્રાફ્ટ મોકલી આપ્યો, તેણે વેચાણ આંકડામાં જણાવ્યું કે,

- (1) તેણે જકાત ₹ 11,400, વીમાના ₹ 12,600 અને જાહેરાતના ₹ 8,000 ચૂકવ્યા હતા.
- (2) તેણે 10 iPhone દરેક ₹ 64,000ની કિંમતે રોકડેથી વેચ્યા હતા.
- (3) તેણે 04 iPhone દરેક ₹ 70,000ની કિંમતે હેમંતને ઉધાર વેચ્યા હતા.
- (4) હેમંત નાદાર જાહેર થયાં ફક્ત 80% રકમ વસુલ થઈ શકી.

ઉપરની વિગતો પરથી ભરતના ચોપડે આડતમાલ ખાતું તૈયાર કરો.

અથવા

3 ગોવા કાજુ લિમિટેડે 1000 કિલો, સૂકો મેવો કિલોદીઠ ₹ 1,500ના ભાવે આડતથી વેચવા મોકલ્યો અને ₹ 15,000નો ખર્ચ ચૂકવ્યો.

રસ્તામાં અકસ્માત થવાથી 100 કિલો માલનું નુકશાન થયું વીમા કંપનીએ ₹ 1,47,500નો દાવો સ્વીકાર્યો. બાકીનો માલ આડતિયાએ ₹ 13,500 જકાત અને ગાડાભાડાના ચૂકવીને છોડાવ્યો. તેણે 800 કિલો સૂકો મેવો કિલોદીઠ ₹ 2,000ના ભાવે રોકડેથી વેચી દીધો.

માલધણીના ચોપડામાં ગણતરી કરો:

- (1) અસામાન્ય નુકશાન અને તેની આમનોંધ લખો.
- (2) આડતમાલ આખર સ્ટોકની કિંમત.

4 કિશન અને મહર્ષિ 3:2ના પ્રમાણમાં નફા-નુકશાન વહેંચતા ભાગીદારો છે.
તા. 31-3-2023ના રોજ પેઢીનું વિસર્જન કરવાનું નક્કી કર્યું:

મૂડી-દેવાં	₹	મિલકત-લેણાં	₹
મૂડી ખાતાં: કિશન	2,02,500	કાયમી મિલકતો	3,00,000
મહર્ષિ	1,20,000	ચાલુ મિલકતો	
સામાન્ય અનામત	30,000	(રોકડ સિવાય)	1,50,000
બેંક લોન (તારણવાળી)	90,000	રોકડ સિલક	75,000
લેણદારો	82,500		
	5,25,000		5,25,000

વિસર્જન ખર્ચ પેટે ₹ 15,000 અનામત રાખવાનું નક્કી કર્યું, ખરેખર વિસર્જન ખર્ચ ₹ 12,000 થયો.

મિલકતોની ઉપજ:

15-4-23 પ્રથમ હપતો.....	₹ 1,20,000
30-6-23 બીજો હપતો.....	₹ 1,05,000
12-7-23 ત્રીજો હપતો.....	₹ 75,000

₹ 30,000ની એક લેણીહૂંડી વટાવેલ જેની પાક્યા તારીખ 31-5-23 હતી, જે પાક્યા તારીખે ચુકવાઈ ગઈ, મૂડી વધારાની રીતે રોકડની હપતે હપતે વહેંચણી દર્શાવતું પત્રક તૈયાર કરો.

અથવા

4 અક્ષ અને હર્ષ એક ફાર્મસી કોલેજ બાંધવાના સંયુક્ત સાહસમાં જોડાયા. તેઓ નફા-નુકસાન 3:2ના પ્રમાણમાં વહેંચશે. સંયુક્ત સાહસના ધંધા માટે દરેક ₹ 12,00,000 ભરી બેન્કમાં સંયુક્ત બેન્ક ખાતું ખોલાવ્યું.

કરાર કિંમત ₹ 45,00,000 નક્કી થઈ, જેમાંથી 80% રોકડમાં અને બાકીના 20% કરાર આપનારના ડિબેન્યર્સમાં ચુકવવાની હતી.

સંયુક્ત બેન્ક ખાતામાંથી નીચે પ્રમાણે ખર્ચ ચુકવ્યા છે:

ડીઝાઈન અને આર્કિટેક્ટ ફી	₹ 1,50,000
માલસામાન ખર્ચ	₹ 15,00,000
મજૂરી ખર્ચ.....	₹ 6,00,000

આ ઉપરાંત, ₹ 3,00,000ની કિંમતનો માલ અક્ષ પોતાના ગોડાઉનમાંથી પૂરો પાડે છે. હર્ષ સુપવાઈઝર તરીકે સેવા આપી છે, જે માટે કરાર કિંમતના 2% લેખે મહેનતાણું મેળવવા માટે તેઓ હકદાર છે.

કરાર પૂરો થતાં નક્કી થયા મુજબ કરાર કિંમત મળી. મળેલા ડિબેન્ચર્સ પૈકી ₹ 6,00,000ના ડિબેન્ચર્સ 20% વટાવથી વેચવામાં આવે છે અને બાકીના ડિબેન્ચર્સ અક્ષ અડધી કિંમતે ખરીદી લે છે. સંયુક્ત બેન્ક ખાતામાંથી ભાગીદારોને તેમની બાકીની રકમ ચુકવી આપવામાં આવે છે.

ઉપરની વિગતો પરથી તૈયાર કરો:

- (1) સંયુક્ત સાહસ ખાતું
- (2) ભાગીદારોના મૂડી ખાતાં
- (3) સંયુક્ત બેન્ક ખાતું
- (4) કરાર આપનારના ડિબેન્ચર્સનું ખાતું

5 નીચેના પેટા પ્રશ્નોના જવાબ અંગે એકથી વધુ વિકલ્પો આપેલા છે. તેમાંથી સાચો વિકલ્પ પસંદ કરો: (દસ)

(1) હિસાબો રાખવાની કઈ પદ્ધતિ શ્રેષ્ઠ અને શાસ્ત્રીય પદ્ધતિ ગણાય?

(અ) વહી ખાતા પદ્ધતિ (બ) દેશી નામા પદ્ધતિ

(ક) એકનોંધી નામા પદ્ધતિ (ડ) દ્વિનોંધી નામા પદ્ધતિ

(2) ઉપાડ પર વ્યાજ નફા-નુકશાન ખાતે જમા થાય છે. તેની પાછળ _____ નું અનુમાન છે.

(અ) રૂઢી ચુસ્તપણું (બ) અલગ અસ્તિત્વ

(ક) હિસાબી મુદત (ડ) પૂર્ણ રજૂઆતનું

(3) સંયોજન વખતે મિલકતો, જવાબદારીઓ અને મૂડી ખાતાં બંધ કરી કયા ખાતે ખોલીને નોંધાય છે?

(અ) નફા-નુકશાન હવાલા ખાતે (બ) પુન:મુલ્યાંકન ખાતે

(ક) નફા-નુકશાન ખાતે (ડ) નવી પેઢીના ખાતે

(4) સંયોજન વખતે નવી પેઢીએ નહિ લીધેલ જવાબદારી ભાગીદારોના મૂડી ખાતે

(અ) જૂના નફા-નુકસાનના પ્રમાણમાં જમા થાય

(બ) સરખા પ્રમાણમાં જમા થાય

(ક) મૂડીના પ્રમાણમાં જમા થાય

(ડ) ભાગીદારો નક્કી કરે તે પ્રમાણમાં જમા થાય

(5) આડતિયાને આસામી આડત યુક્તવવામાં આવતી હોય તો જો ઘાલખાધ પડે તો આડતિયો:

(અ) માલધણીનું ખાતું ઉધારશે

(બ) દેવાદારોનું ખાતું ઉધારશે

(ક) આડત ખાતું ઉધારશે

(ડ) માલધણીનું ખાતું જમા કરશે

(6) આડતમાલના હિસાબોમાં ઉદ્ભવતું અસામાન્ય નુકશાન કયા ખાતે ઉધારાય છે?

(અ) આડતિયા ખાતે

(બ) આડતમાલ ખાતે

(ક) નફા-નુકસાન ખાતે

(ડ) માલધણી ખાતે

(7) મહત્તમ નુકસાનની પદ્ધતિમાં જો કોઈ ભાગીદારની મૂડીની રકમ ઋણ આવે તો તે રકમ અન્ય ભાગીદારો વચ્ચે:

(અ) મૂડીના પ્રમાણમાં વહેંચાય

(બ) નફા-નુકસાનના પ્રમાણમાં વહેંચાય

(ક) વહેંચાય નહિ

(ડ) આપેલમાંથી એકપણ નહિ

(8) રોકડની ટુકડે ટુકડે વહેંચણીમાં મૂડી વધારાની પદ્ધતિએ છેલ્લે દરેક ભાગીદારોની મૂડીતટ _____.

(અ) મૂડીના પ્રમાણમાં નથી હોતી

(બ) નફા-નુકસાનના પ્રમાણમાં હોય છે

(ક) નફા-નુકસાનનું પ્રમાણમાં નથી હોતી

(ડ) મૂડીના પ્રમાણમાં હોય છે

(9) નીચેનામાંથી કયા ધંધામાં રાશનો વેપાર કરી શકાય?

(અ) વર્તમાનપત્ર

(બ) લોકમેળામાં ફાસ્ટફૂડનો સ્ટોલ કરવો

(ક) ઓઈલ રિફાઈનરી

(ડ) આમાંથી એક પણ નહિ


(10) નીચે દર્શાવેલ ખાતાં પૈકી કયું ખાતું રાશના હિસાબોના ભાગરૂપે ખોલવામાં આવતું નથી?

(અ) સંયુક્ત બેન્ક ખાતું

(બ) રાશ ખાતું

(ક) સહભાગીદારનું ખાતું

(ડ) સ્ટોક અનામતનું ખાતું



NJ-021005

Seat No. _____

B. Com. (Sem. I) Examination
December - 2023
BCOMC105 : English (General)

Time : 3 Hours]

[Total Marks : 70

- 1 (a) Answer the following questions in brief : (any four) 8
- (1) What role do the seasons play in the story 'The Selfish Giant' ?
 - (2) How does the Giant change over the course of the story ?
 - (3) Analyze the role of the children in the story and how they contribute to the Giant's transformation.
 - (4) How did Kali react when the three children did not notice him ?
 - (5) Describe Kali's home in the story "Sweets for Angels".
 - (6) Describe Kali's appearance.
 - (7) How are blind people different from people with eyesight ? Why does the narrator feel that people with good eyesight fail to see what is in front of them?
- (b) Write a short note on any one of the following : 4
- (1) The central theme of "The Selfish Giant".
 - (2) Write a note on Kali's admiration for children.
 - (3) Justify the title of the story 'The Eyes are not Here'.
- 2 (a) Write brief answers of any four of the following : 8
- (1) Describe the routine of Roucolle.
 - (2) How did Roucolle join the wildcat scheme ?
 - (3) Describe the reactions of Roucolle and the Pole after their release.
 - (4) What does Mrs. Bennet tell her husband ?
 - (5) How does Mr. Bennet react to the plan designed by his wife ?
 - (6) Who takes over Netherfield park ? Why is Mrs. Bennet happy about it?
 - (7) Where did Hogan find Mr. Roger's name written ?
- (b) Write a short note on any one of the following : 4
- (1) Character Analysis of Roucolle.

- (2) Draw a character sketch of Mrs. Bennet.
- (3) The Suitcase.

- 3 (a) Identify parts of speech from the following : 4
- (1) Wow! This is amazing.
 - (2) Did she find the book she was looking for ?
 - (3) I reached home at six in the evening.
 - (4) Wow! this is amazing.
- (b) Identify the types of sentences from the following : 4
- (1) Wow, how good is this !
 - (2) What is she doing ?
 - (3) He likes fantasy novels.
 - (4) Please, shut the door.
- (c) Fill in the blanks with appropriate forms of verbs given in the bracket. 8
- (1) I _____ to the party last night. (go)
 - (2) She _____ for a walk every morning. (go)
 - (3) Madam will _____ tenses tomorrow in the last class. (teach)
 - (4) The students _____ already _____ the tasks. (do)
 - (5) Maitri has _____ a new laptop. (buy)
 - (6) Listen! Someone _____ at the door. (knock)
 - (7) Mr. Shah _____ the meeting tomorrow. (attend)
 - (8) Ms. Patel _____ a sketch right now. (paint)

- 4 (a) Develop a paragraph of about 100 words on any one of the following : 6
- (1) Importance of English
 - (2) Importance of Trees
- (b) Read the following paragraph and answer the following questions : 10

Education is an essential part of our life. It not only helps us acquire knowledge and skills but also helps in building our character and values. Education plays an important role in our personal and professional development and is an investment in our future.

Education has many benefits. It helps us understand the world around us and think critically and creatively. It also gives us the skills we need to succeed in the workforce and contribute to our communities. Education can open up new opportunities and give us a sense of accomplishment and self-satisfaction.

Additionally, education helps promote equality and social mobility. It gives individuals the tools and knowledge they need to rise out of poverty and achieve their full potential. Education is also a key factor in reducing discrimination and promoting understanding and tolerance between different cultures and groups.

In short, education is an important part of our lives and has the power to transform individuals and communities.

Questions :


- (1) What is the importance of education in our lives ?
- (2) Write some benefits of education.
- (3) How does education promote equality and social mobility ?
- (4) How can education change individuals and communities ?

5 Choose the correct option :

14

- (1) In which story does Kali appear ?
(A) Selfish Giant (B) Sweets for Angels
(C) The Miser (D) The Wrong House
- (2) In which story does the Mr. Hogan appear ?
(A) Selfish Giant (B) Sweets for Angels
(C) The Miser (D) The Wrong House
- (3) An Excellent Father is written by _____.
(A) Ruskin Bond (B) Jane Austen
(C) James Young (D) R K Narayan
- (4) When did the children go to the Giant's garden ?
(A) Morning (B) Afternoon
(C) Evening (D) Night
- (5) What was the child's garden ?
(A) Paradise (B) Hell
(C) The Giant's garden (D) His Parent's garden
- (6) What gestures of the boy enlightened the Giant ?
(A) Hug (B) Kiss
(C) Crying (D) Both A and B
- (7) "It is a regular gang. They are from the Himalayas. It is a monstrous sect, every member of it has vowed to sacrifice 100 children. See how he looks! He is not of these parts."
These statements occur in which story ?
(A) Selfish Giant (B) Sweets for Angels
(C) The Miser (D) The Wrong House

- (8) R K Narayan was born in _____
(A) Chennai (B) Bombay
(C) Pondichery (D) Calcutta
- (9) The narrator was all alone in the train compartment up to _____
(A) Dehra (B) the station next to Rohana
(C) Rohana (D) the station before Rohana
- (10) The narrator first discovered that the girl _____
(A) had a sweet voice (B) could laugh sweetly
(C) had won slippers (D) had an interesting face.
- (11) Look, the sun _____ over the hills.
(A) rises (B) rose
(C) is rising (D) none of these
- (12) Abdul _____ to be a doctor.
(A) wants (B) is wanting
(C) want (D) none of these
- (13) Oh, That is excellent ! This sentence is _____ ?
(A) interrogative (B) assertive
(C) exclamatory (D) imperative
- (14) I will have finished my semester by the end of this year.
Identify parts of speech of the underlined word.
(A) interjection (B) conjunction
(C) preposition (D) adjective
-



NN-431014

Seat No. 748

B. Com. (Sem. I) Examination

December - 2023

BCM23AE101 : Business English - I

(New Course)

Time : 1 Hour]

[Total Marks : 25

- Instructions : (1) Figures to the right indicate full marks.
(2) Indicate clearly the options you attempt.

- 1 Discuss the difference between General English and Business English. 10

OR

Discuss any five qualities of an effective Business Email.

- 2 On behalf of Mehta Brothers, Godhra, write an Email of Inquiry to Orient Fans Pvt. Ltd. Vapi for variety of Ceiling Fans. 10

OR

- (a) Answer in brief any four of the followings : 6

- (1) What business did Shantanu get involved in his college days ?
- (2) What did Educomp eventually begin to do ?
- (3) What advice does Shantanu Prakash give to the young entrepreneurs?
- (4) How did Baljee start his first hotel "Harsha" ?
- (5) What is the education of Baljee's sons ? Where did they study ?
- (6) What is "Peppermint" ?

- (b) Do as directed : 4

- (1) Sunita is a beautiful girl. (Underline the noun)
- (2) William is a brilliant boy. (Underline the Adjective)
- (3) Look. They _____ cricket. (played, are playing, were playing)
- (4) We _____ keep driving licence with us while driving. (may, must, would)

3 Choose the correct answer from the options given (MCQ)

5

(1) Manish _____ not come to party yesterday.

- (A) do
- (B) does
- (C) did

(2) Manoj _____ gone to Bombay

- (A) have
- (B) has
- (C) had

(3) We _____ respect our elders.


- (A) must
- (B) would
- (C) should

(4) Cancellation of an order is always written by _____

- (A) trader
- (B) manufacturer
- (C) Salesman

(5) Shantanu was born in _____

- (A) Mumbai
 - (B) Calcutta
 - (C) Rourkela
-



NN-431014

Seat No. 748

B. Com. (Sem. I) Examination

December - 2023

BCM23AE101 : Business English - I
(New Course)

Time : 1 Hour]

[Total Marks : 25

- Instructions :** (1) Figures to the right indicate full marks.
(2) Indicate clearly the options you attempt.

- 1 Discuss the difference between General English and Business English. 10

OR

Discuss any five qualities of an effective Business Email.

- 2 On behalf of Mehta Brothers, Godhra, write an Email of Inquiry to Orient Fans Pvt. Ltd. Vapi for variety of Ceiling Fans. 10

OR

- (a) Answer in brief any four of the followings : 6

- (1) What business did Shantanu get involved in his college days ?
- (2) What did Educomp eventually begin to do ?
- (3) What advice does Shantanu Prakash give to the young entrepreneurs?
- (4) How did Baljee start his first hotel "Harsha" ?
- (5) What is the education of Baljee's sons ? Where did they study ?
- (6) What is "Peppermint" ?

- (b) Do as directed : 4

- (1) Sunita is a beautiful girl. (Underline the noun)
- (2) William is a brilliant boy. (Underline the Adjective)
- (3) Look. They _____ cricket. (played, are playing, were playing)
- (4) We _____ keep driving licence with us while driving. (may, must, would)

3 Choose the correct answer from the options given (MCQ)

5

(1) Manish _____ not come to party yesterday.

(A) do

(B) does

(C) did

(2) Manoj _____ gone to Bombay

(A) have

(B) has

(C) had

(3) We _____ respect our elders.

(A) must

(B) would

(C) should

(4) Cancellation of an order is always written by _____

(A) trader

(B) manufacturer

(C) Salesman

(5) Shantanu was born in _____

(A) Mumbai

(B) Calcutta

(C) Rourkela